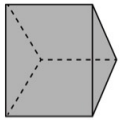
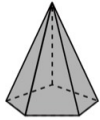


1. Escribe cómo se llama cada cuerpo.

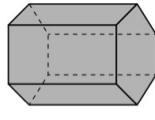
- A: \_\_\_\_\_  
 B: \_\_\_\_\_  
 C: \_\_\_\_\_  
 D: \_\_\_\_\_



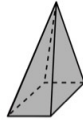
A



B



C



D

2. Marca las opciones que sean verdaderas:

**Respuesta:** Las esferas tienen una superficie curva.

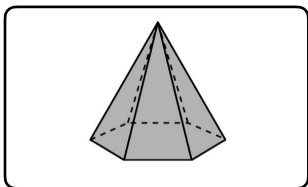
**Respuesta:** Los cuerpos redondos son: el cilindro, la pirámide y la esfera.

**Respuesta:** Los conos tienen una base circular y una superficie lateral curva.

**Respuesta:** Los cilindros tienen solo una base circular y una superficie recta.

3. Escribe el nombre de este cuerpo geométrico e indica el número de bases, caras laterales, vértices y aristas que tiene.

- Nombre: \_\_\_\_\_  
 Bases: \_\_\_\_  
 Caras laterales: \_\_\_\_  
 Vértices: \_\_\_\_  
 Aristas: \_\_\_\_



4. Indica el nombre de cada cuerpo redondo y sus elementos marcados:

Figura 1:

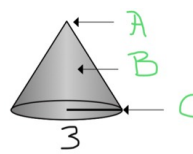
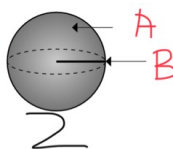
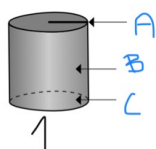
Nombre: \_\_\_\_\_, A: \_\_\_\_\_, B: \_\_\_\_\_ y C: \_\_\_\_\_.

Figura 2:

Nombre: \_\_\_\_\_, A: \_\_\_\_\_, B: \_\_\_\_\_.

Figura 3:

Nombre: \_\_\_\_\_, A: \_\_\_\_\_, B: \_\_\_\_\_ y C: \_\_\_\_\_.





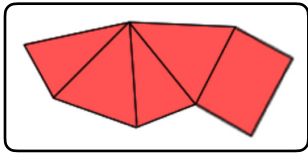
5. ¿Cuántas caras laterales tiene un prisma pentagonal?

- Respuesta: 4 caras laterales.
- Respuesta: 5 caras laterales.
- Respuesta: 6 caras laterales.
- Respuesta: 3 caras laterales.

6. ¿Qué cuerpo geométrico tiene este desarrollo?


Respuesta: Una pirámide triangular.

- Respuesta: Un prisma triangular.
- Respuesta: Una pirámide cuadrangular.
- Respuesta: Un prisma cuadrangular.



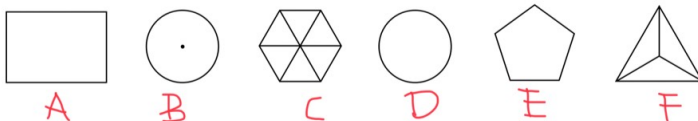
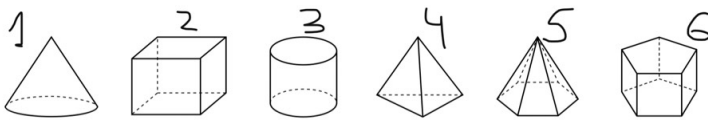
7. ¿Qué forma tiene este objeto?

- Respuesta: Cilindro.
- Respuesta: Prisma.
- Respuesta: Pirámide.
- Respuesta: Cono.
- Respuesta: Esfera.



8. Imagina cómo se ve cada cuerpo geométrico desde arriba y relaciona.

Ejemplo: La figura 1 se vería desde arriba como la imagen \_\_\_\_\_



9. Piensa y contesta con el nombre del cuerpo geométrico apropiado:

**Tiene un vértice y un radio.**

Respuesta: Cono  
Respuesta: Esfera.  
Respuesta: Cilindro.  
Respuesta: Prisma.  
Respuesta: Pirámide.

---

10. Piensa y contesta con el nombre del cuerpo geométrico apropiado:

**Sus cuatro caras laterales son triángulos.**

Respuesta: Cono  
Respuesta: Esfera.  
Respuesta: Cilindro.  
Respuesta: Prisma.  
Respuesta: Pirámide.

---