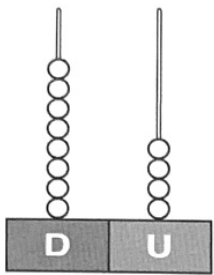


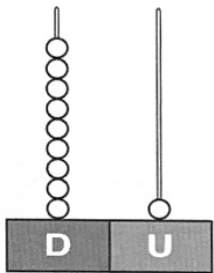
1 ¿Qué número es? Cuenta y completa.



D	U

decenas y unidades

+ =



D	U

decenas y unidad

+ =

2 Rodea los números pares.

36 8 49 22 66 17 88
 27 16 54 32 73 2 95

3 Suma.



	D	U	
○	11		○
	13		
+	21		
<hr/>			
○			

	D	U	
○	43		○
	33		
+	3		
<hr/>			
○			

	D	U	
○	15		○
	23		
+	30		
<hr/>			
○			

	D	U	
○	24		○
	31		
+	2		
<hr/>			
○			

- 4 Observa la fila de animales y completa los ordinales. Después, escribe qué lugar ocupa cada animal en la fila.



- 5 ¿Cuántos puntos tienen en total los tres primeros equipos de esta liga? Observa el tablón y resuelve.

COLEGIO LA LUNA - FÚTBOL SALA -	
Los tigres	13 puntos
Los lince	12 puntos
Las panteras	10 puntos
Los leones	9 puntos

Datos ► , y

Operación ►



Solución ► Tiene

