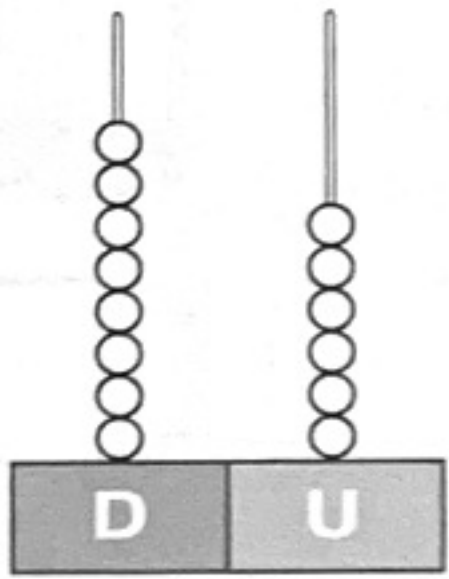


Nombre \_\_\_\_\_ Fecha \_\_\_\_\_

**1** ¿Qué números son? Completa y escribe cómo se leen.



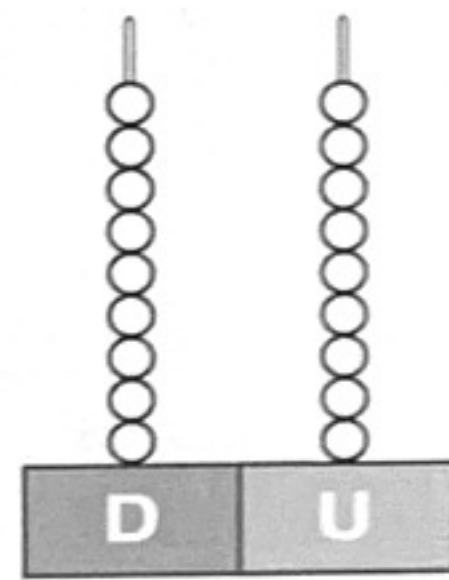
D	U

decenas y  unidades.

\_\_\_\_\_

\_\_\_\_\_

\_\_\_\_\_



D	U

decenas y  unidades.

\_\_\_\_\_

\_\_\_\_\_

\_\_\_\_\_

**2** Lee y escribe los números hasta el 99 que correspondan.

Números pares  
con 8 decenas.

▶

Números impares  
con 9 decenas.

▶

**3** Calcula las sumas.


$$\begin{array}{r} 43 \\ 12 \\ + 24 \\ \hline \end{array}$$

$$\begin{array}{r} 12 \\ 40 \\ + 2 \\ \hline \end{array}$$

$$\begin{array}{r} 42 \\ 31 \\ + 13 \\ \hline \end{array}$$


$$\begin{array}{r} 41 \\ 25 \\ + 3 \\ \hline \end{array}$$

4 ¿Qué piso es? Escribe el ordinal y cómo se lee.



○	▶	
○	▶	
○	▶	
○	▶	
○	▶	
○	▶	
○	▶	
○	▶	
○	▶	
○	▶	

5 ¿Quién va delante? ¿Y detrás? Observa y escribe el nombre.



Detrás del 1.º



Detrás del 8.º



Delante del 4.º

