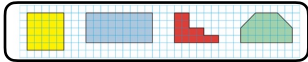


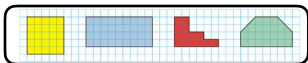
1. Haced el ejercicio 1 en el libro y contestad a esta pregunta:

¿Cuánto mide el área de la figura de color amarillo tomando un cuadradito como unidad?



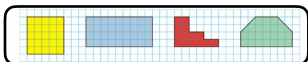
2. Haced el ejercicio 1 en el libro y contestad a esta pregunta:

¿Cuánto mide el área de la figura de color azul tomando un cuadradito como unidad?



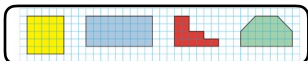
3. Haced el ejercicio 1 en el libro y contestad a esta pregunta:

¿Cuánto mide el área de la figura de color rojo tomando un cuadradito como unidad?



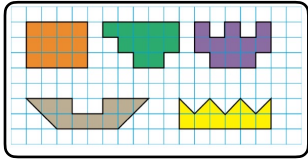
4. Haced el ejercicio 1 en el libro y contestad a esta pregunta:

¿Cuánto mide el área de la figura de color verde tomando un cuadradito como unidad?



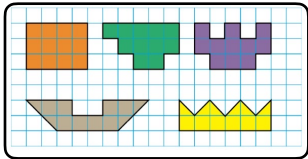
5. Escribid cuál es el área de las figuras del ejercicio 2 en el libro (imagen) y marcad las respuestas que sean verdaderas.

La figura naranja tiene un área de 12 cuadrillos.  
La figura verde tiene un área de 10 cuadrillos.  
La figura morada tiene un área de 11 cuadrillos.  
La figura gris tiene un área de 11 cuadrillos.  
La figura amarilla tiene un área de 10 cuadrillos.

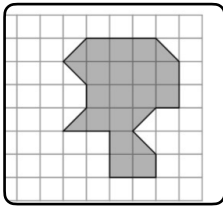


6. ¿Qué dos figuras del ejercicio anterior tienen la misma área?

La figura verde y la morada.  
La naranja y la amarilla.  
Ninguna, todas son diferentes.  
La naranja y la amarilla.



7. Un poquito más difícil, ¿cuánto mide el área de esta figura?



8. Dibuja en tu cuaderno dos figuras diferentes. Cuenta los cuadrillos y escribe sus áreas. Deben tener entre 10 y 15 cuadrillos de área. (Esta pregunta no aparecerá en iDoceo)