

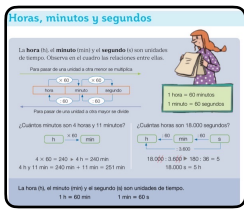
1. ¿Cuántos minutos son una hora y cuarto?

Recordad la información de la imagen:

Respuesta: 75 minutos.

Respuesta: 45 minutos.

Respuesta: 90 minutos.



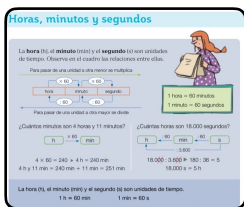
2. ¿Cuántos segundos son media hora?

Recordad la información de la imagen:

Respuesta: 1.800 s.

Respuesta: 3000 s

Respuesta: 1.200 s.



3. ¿Cuántas horas y minutos son 800 minutos?

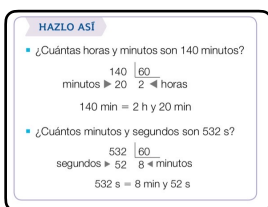
Para realizar dicha actividad repasad la información de la imagen.

Dividid entre 60 y el cociente serán las horas y el resto los minutos correspondientes. (sin simplificar la división)

Respuesta: 13 h y 20 min.

Respuesta: 14 h y 50 min.

Respuesta: 12 horas y 45 min.



4. ¿Cuántos minutos y segundos son 1.280 segundos?

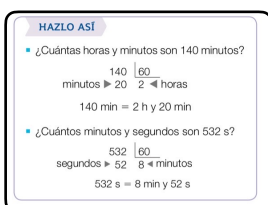
Para realizar dicha actividad repasad la información de la imagen.

Dividid entre 60 y el cociente serán las horas y el resto los minutos correspondientes. (sin simplificar la división)

Respuesta: 21 min y 20 s.

Respuesta: 19 min y 50 s.

Respuesta: 20 min y 40 s.



5. Un grifo echa 25 litros de agua en un minuto.
¿Cuántos litros de agua echará en una hora y media?

Respuesta: 2.250 litros.
Respuesta: 1.500 litros.
Respuesta: 750 litros

6. Una máquina llena 180 botellas de zumo en una hora. ¿Cuántas botellas llenará en 2 horas? ¿Y en un minuto?

Respuesta: Llenará 360 botellas en 2 horas
Llenará 3 botellas en 1 minuto.
Respuesta: Llenará 340 botellas en 2 horas
Llenará 2 botellas en 1 minuto.
Respuesta: Llenará 360 botellas en 2 horas
Llenará 5 botellas en 1 minuto.

7. Si un reloj digital marca las 18:45, ¿qué hora marcará 3 horas y 25 minutos después?

Respuesta: 22:10
Respuesta: 21:70
Respuesta: 21:10

8. Calcula:
 $23.765 + 43.650$

Respuesta: 67.415
Respuesta: 66.415
Respuesta: 67.425

9. Calcula:
 $1.543,654 + 22,638$

Respuesta: 1.566,292
Respuesta: 1.566,192
Respuesta: 1.556,292

10. Calcula:
 $23,507 - 12,75$

Respuesta: 10,757
Respuesta: 12,757
Respuesta: 10,657