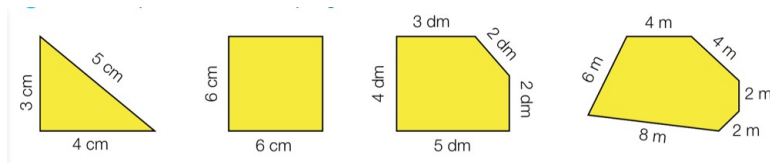
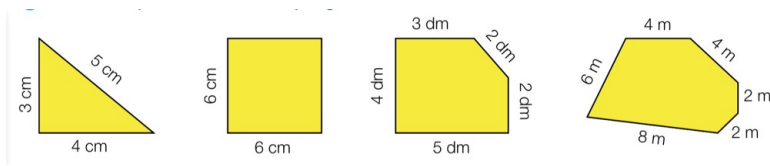


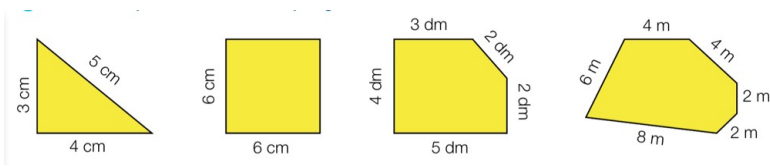
1. ¿Cuánto mide el perímetro del triángulo?



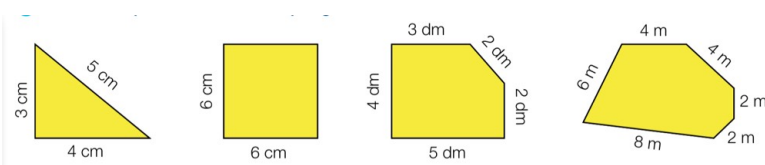
2. ¿Cuánto mide el perímetro del cuadrado?



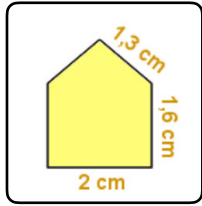
3. ¿Cuánto mide el perímetro del pentágono?



4. ¿Cuánto mide el perímetro del hexágono?



5. ¿Cuánto mide el perímetro de este polígono?



---

6. Marcos tiene una finca con forma de rectángulo cuyos lados miden 60 m y 25 m, y le ha puesto una valla alrededor. ¿Cuántos metros de valla ha utilizado?

---

7. ¿Cuánto mide el lado de un cuadrado que tiene de perímetro 20 cm?

---

8. He dibujado un triángulo equilátero en mi cuaderno. Tiene un perímetro de 18 cm. ¿Cuánto mide cada uno de sus lados?

---

9. Dibujad en vuestros cuadernos 3 polígonos diferentes. Medid con una regla sus lados y hallad sus perímetros. (Este ejercicio no aparecerá en iDoceo)