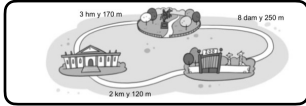


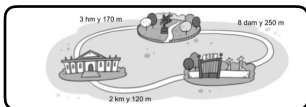
1. Observa el plano y expresa en metros:  
Del museo al zoo hay \_\_\_\_\_ m.

- Respuesta: 2.120 m
- Respuesta: 212 m
- Respuesta: 21.200 m
- Respuesta: 20.120 m



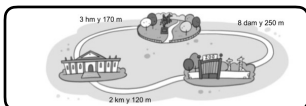
2. Observa el plano y expresa en metros:  
Del parque al museo hay \_\_\_\_\_ m.

- Respuesta: 470 m
- Respuesta: 4.700 m
- Respuesta: 3.170 m
- Respuesta: 173 m



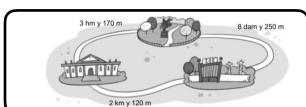
3. Observa el plano y expresa en metros:  
Del parque al zoo hay \_\_\_\_\_ m.

- Respuesta: 330 m.
- Respuesta: 8.250 m
- Respuesta: 1.050 m
- Respuesta: 258 m



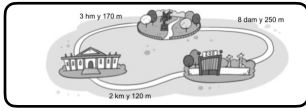
4. Observa el plano y expresa en metros:  
Del zoo al parque pasando por el museo hay \_\_\_\_\_ m.

- Respuesta: 2.590 m.
- Respuesta: 2.490 m
- Respuesta: 3.590 m
- Respuesta: 2.658 m



5. Observa el plano y expresa en metros:  
Del museo al parque pasando por el zoo hay  
\_\_\_\_\_ m.

Respuesta: 2.450 m.  
Respuesta: 2.350 m.  
Respuesta: 2.550 m  
Respuesta: 1.450 m



6. Escribe el nombre de cada atleta y cuantos metros ha recorrido.

Respuesta modelo:

Dorsal 12, es Luis y ha recorrido 1.500 m.

Dorsal 5, es Cris y ha recorrido 1.000 m.

Dorsal 39, es Marcos y ha recorrido 1.700 m.

Dorsal 7, es Ana y ha recorrido 2.000 m.

Dorsal 46, es Pepe y ha recorrido 500 m.

