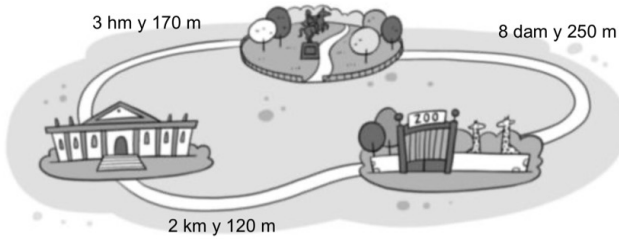
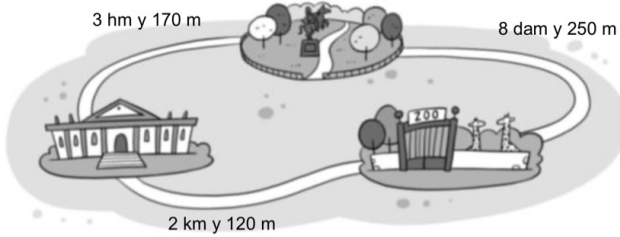


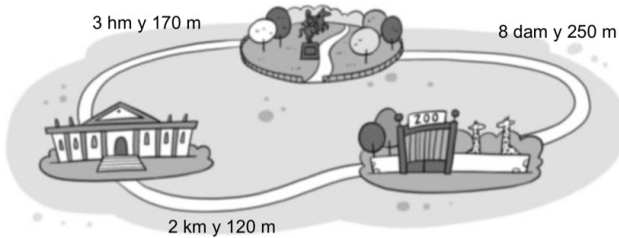
1. Observa el plano y expresa en metros:
Del museo al zoo hay _____ m.



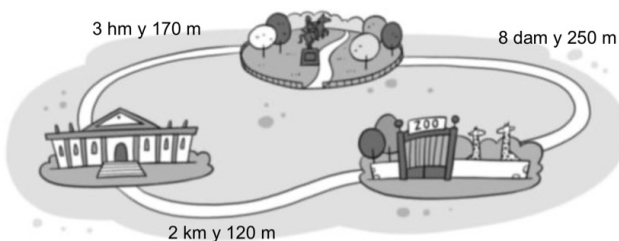
2. Observa el plano y expresa en metros:
Del parque al museo hay _____ m.



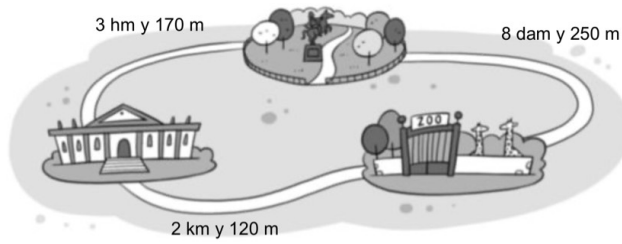
3. Observa el plano y expresa en metros:
Del parque al zoo hay _____ m.



4. Observa el plano y expresa en metros:
Del zoo al parque pasando por el museo hay _____ m.



5. Observa el plano y expresa en metros:
Del museo al parque pasando por el zoo hay
_____ m.



6. Escribe el nombre de cada atleta y cuantos metros ha recorrido.



- Luis, que lleva calcetines, recorrió 1 km y 50 dam.
- Marcos, que tiene a Cris a su derecha, recorrió 10 hm y 700 m.
- Ana, que está entre Marcos y Pepe, recorrió 20.000 dm.
- Cris recorrió la mitad de metros que Ana.
- Pepe, que no usa gafas, recorrió un tercio de la distancia de Luis.

Respuesta modelo:

Dorsal 12, es _____ y ha recorrido _____ m.

Dorsal 5, es _____ y ha recorrido _____ m.

Dorsal 39, es _____ y ha recorrido _____ m.

Dorsal 7, es _____ y ha recorrido _____ m.

Dorsal 46, es _____ y ha recorrido _____ m.