
1.¿Cuándo se fundó la ciudad de Roma?

Respuesta: 658 a.C
Respuesta: 753 a.C
Respuesta: 896 a.C

2.¿Hasta qué año duró el imperio romano?

Respuesta: 476 d.C
Respuesta: 500 d.C
Respuesta: 234 d.C

3.Los romanos organizaron Hispania en...

Respuesta: Provincias
Respuesta: Pueblos
Respuesta: Villas

4.El lugar donde hacían carreras de caballos se llamaba...

Respuesta: Anfiteatro
Respuesta: Templo
Respuesta: Circo

5.Las personas humildes vivían en...

Respuesta: Las domus
Respuesta: Las insulae
Respuesta: Las villas

6.Los patricios eran...

Respuesta: Hombres y mujeres muy ricos
Respuesta: Personas esclavas
Respuesta: Trabajadores del campo

7.Las normas que implantaron los romanos para regular la convivencia entre las personas se conocen como...

Respuesta: Normas de Hispania
Respuesta: Derecho de convivencia
Respuesta: Derecho romano

8.¿Cómo se llamaba la túnica larga que vestían las mujeres?

Respuesta: Chal
Respuesta: Stola
Respuesta: Velo

9.¿Qué quiere decir que los romanos eran politeístas?

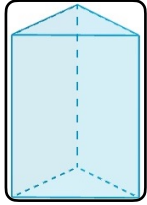
Respuesta: Que creían en un solo dios
Respuesta: Que creían en varios dioses y diosas
Respuesta: Que no creían en ningún dios

10.La forma de vida de los habitantes de Hispania fue adaptándose a las costumbres romanas. Este proceso se conoce como:

Respuesta: Hispanización
Respuesta: Romanización
Respuesta: Adaptación

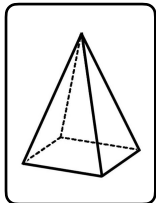
1. ¿Con qué figuras geométricas se forma este prisma?

- Respuesta: 3 rectángulos y dos triángulos.
- Respuesta: 3 cuadrados y un triángulo.
- Respuesta: 4 rectángulos y 3 triángulos.
- Respuesta: 2 triángulos y 4 rectángulos.



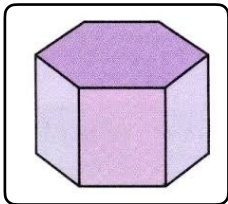
2. Una pirámide cuadrangular, ¿cuántas caras laterales tiene?

- Respuesta: 3
- Respuesta: 4
- Respuesta: 5
- Respuesta: 2



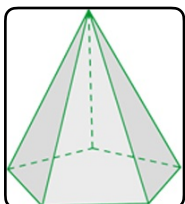
3. ¿Cómo se llama esta figura geométrica?

- Respuesta: Prisma pentagonal.
- Respuesta: Pirámide cuadrangular.
- Respuesta: Cilindro.
- Respuesta: Prisma hexagonal.



4. ¿Cómo se llama esta figura geométrica?

- Respuesta: Pirámide pentagonal.
- Respuesta: Pirámide hexagonal.
- Respuesta: Pirámide circular.
- Respuesta: Prisma pentagonal.



5. Es una característica de las pirámides

Respuesta: Sus caras laterales son rectangulares.

Respuesta: Tiene 2 bases.

Respuesta: Sus caras laterales son triangulares.

Respuesta: Su base es triangular.

6. ¿Qué poliedro se forma con este desarrollo?

Respuesta: Una pirámide pentagonal

Respuesta: Un prisma pentagonal.

Respuesta: Una pirámide hexagonal.

Respuesta: Un cono

