

1. Indica el nombre de este cuerpo redondo y sus elementos:

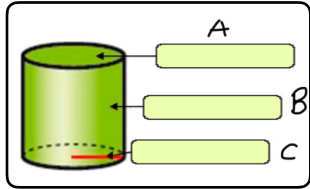
Nombre: _____

Elementos a completar: superficie curva, radio, base.

A) _____

B) _____

C) _____



2. Indica el nombre de este cuerpo redondo y sus elementos:

Nombre: _____

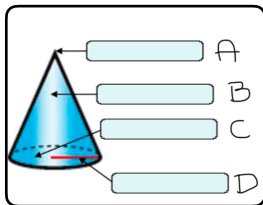
Elementos a completar: superficie curva, radio, base, vértice.

A) _____

B) _____

C) _____

D) _____



3. Indica el nombre de este cuerpo redondo y sus elementos:

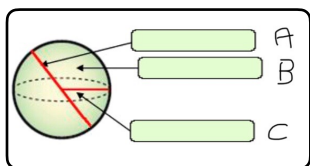
Nombre: _____

Elementos a completar: superficie curva, radio, diámetro.

A) _____

B) _____

C) _____



4. El cilindro tiene dos bases y el cono una.

Respuesta: Verdadero.

Respuesta: Falso.

5.El cilindro tiene un vértice.

Respuesta: Verdadero.

Respuesta: Falso.

6.El cilindro tiene dos bases, que son círculos.

Respuesta: Verdadero.

Respuesta: Falso.

7.El cono tiene una base, que es un polígono.

Respuesta: Verdadero

Respuesta: Falso

8.El cono tiene un vértice.

Respuesta: Verdadero

Respuesta: Falso

9.La esfera no tiene superficies planas.

Respuesta: Verdadero

Respuesta: Falso
