

---

1. Señala la opción verdadera:

**Respuesta:** Todos los cuerpos están hechos de materia.  
**Respuesta:** Solo algunos cuerpos están hechos de unas determinadas materias.

---

2. Dos propiedades fundamentales y generales de la materia son:

**Respuesta:** La densidad y el volumen.  
**Respuesta:** La masa y el volumen.  
**Respuesta:** La masa y el color.

---

3. ¿Qué mide la masa?

**Respuesta:** La extensión de un objeto.  
**Respuesta:** El espacio que ocupa un objeto  
**Respuesta:** La cantidad de materia que tiene un objeto.

---

4. Las unidades que se emplean para medir la masa son:

**Respuesta:** Kg y el gramo.  
**Respuesta:** El peso.  
**Respuesta:** Los litros.

---

5. El volumen mide:

**Respuesta:** La extensión de un objeto.  
**Respuesta:** El espacio que ocupa un cuerpo.  
**Respuesta:** La cantidad de materia que tiene un cuerpo.

---

6. ¿En qué unidades se mide el volumen?

**Respuesta:** Metros.  
**Respuesta:** Gramos.  
**Respuesta:** Litros.

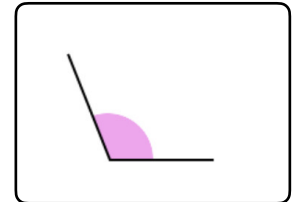
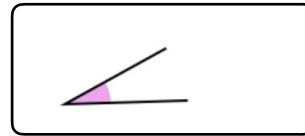
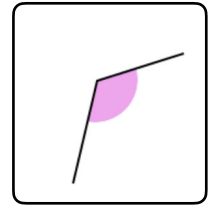
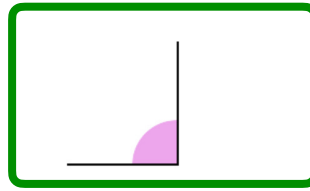
---

7. ¿Qué pesa más: un kilo de arroz o un kilo de paja?

**Respuesta:** Un kilo de paja.  
**Respuesta:** Un kilo de arroz.  
**Respuesta:** Lo mismo.

---

1. ¿Cuál de los siguientes ángulos es un ángulo recto?



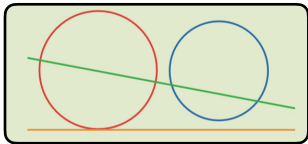
2. Según la imagen, ¿qué posición tiene la recta verde respecto a las circunferencias roja y azul?

**Respuesta:** Es secante a ambas circunferencias.


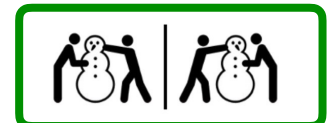
**Respuesta:** Es exterior a la roja y tangente a la azul.

**Respuesta:** Es tangente a ambas circunferencias.

**Respuesta:** Es secante a la roja y tangente a la azul.



3. ¿Qué pareja de imágenes son simétricas?



4. ¿Cuál de las siguientes afirmaciones es falsa?

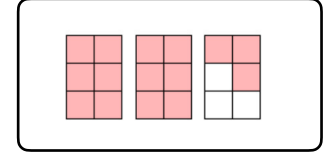
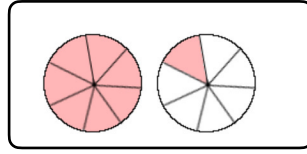
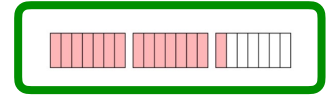
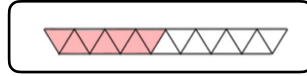
**Respuesta:**  $1/2$  de  $90 = 45$

**Respuesta:**  $3/4$  de  $1000 = 750$

**Respuesta:**  $7/10$  de  $230 = 160$

**Respuesta:**  $4/9$  de  $153 = 68$

5. Elige la imagen que representa la fracción  $15/7$



6. ¿Cuánto son cinco sextos de doscientos cuarenta?

Respuesta: 200

Respuesta: 20

Respuesta: 210

Respuesta: 21

7. Elige el número decimal menor

Respuesta: 61,03

Respuesta: 61,122

Respuesta: 62,11

Respuesta: 61,04

8. ¿Qué termino falta en la siguiente operación?

$$27,6 + \underline{\hspace{2cm}} = 30,237$$

Respuesta: 57,837

Respuesta: 30,737

Respuesta: 14,231

Respuesta: 2,637

9. Calcula:

$$12,5 - 1,17 + 4 = ??$$

Respuesta: 15,33

Respuesta: 14,33

Respuesta: 15,34

Respuesta: 16,45

10. Iván pagó con un billete de 20 € y le devolvieron un billete de 5 €, una moneda de 1 €, una moneda de 20 céntimos y una moneda de 5 céntimos, ¿cuánto se gastó en la compra?

Respuesta: Iván se gastó 13,75 €.

Respuesta: Iván se gastó 13,65 €.

Respuesta: Iván se gastó 12,55 €.

Respuesta: Iván se gastó 12,75 €.

11. Para envolver regalos, Lucía tiene un rollo de cinta de 3,5 m. Primero cortó 0,75 m y después cortó 1,55 m. ¿Cuántos metros de cinta le quedan en el rollo?

Respuesta: Le quedan 1,20 m de cinta.

Respuesta: Le quedan 1,30 m de cinta.

Respuesta: Le quedan 2,20 m de cinta.

Respuesta: Le quedan 1,40 m de cinta.

12. Jimena pone el lavavajillas a las 15:35 horas. El ciclo de lavado dura 2 horas y 25 minutos. ¿A qué hora termina el lavavajillas?

Respuesta: A las 18:00.

Respuesta: A las 16:00

Respuesta: A las 17:55

Respuesta: A las 18:05

1. Marca las dos cosas que NO suceden en la audiencia.

Respuesta: Un servidor de palacio lleva la piedra sobre un cojín.

Respuesta: El campesino no para de llorar en ningún momento.

Respuesta: La reina multa al herrero por robar al campesino.

Respuesta: La reina le da dinero al muchacho.

2. ¿Dónde colocó Eloy las monedas?

Respuesta: Entre los matorrales.

Respuesta: Debajo de una piedra.

3. ¿Dónde tuvo lugar la audiencia de la reina?

Respuesta: En casa del campesino.

Respuesta: En el palacio de la reina.

4. ¿Qué hizo la reina con la piedra?

Respuesta: Interrogarla.

Respuesta: Guardársela.

5. ¿Por qué fue multado el público?

Respuesta: Por hablar.

Respuesta: Por reírse.

6. ¿Cómo era la reina? Hay varias opciones correctas.

Respuesta: Aburrida.

Respuesta: Ingeniosa.

Respuesta: Sabia.

Respuesta: Avariciosa.

Respuesta: Divertida.

Respuesta: Comprensiva.

7. ¿Qué significa la palabra "robusta" que se encuentra en el cuento?

Respuesta: Muy cansadas.

Respuesta: Fuertes, resistentes.

8. ¿Qué significa la palabra "matorrales" que se encuentra en el cuento?

Respuesta: Arbustos.

Respuesta: Camaradas, colegas.

9. ¿Qué significa la palabra "afligido" que se encuentra en el cuento?

Respuesta: Embustero, que dice mentiras.

Respuesta: Que siente dolor o pena.

10. ¿Qué significa la palabra "ribetes" que se encuentra en el cuento?

Respuesta: Adornos que se ponen en el borde de una cosa.

Respuesta: Adornos que se ponen alrededor de la muñeca.

11. ¿Qué significa la palabra "estrépito" que se encuentra en el cuento?

Respuesta: No oírse voces ni ruidos, silencio.

Respuesta: Ruido muy grande.

12.¿Qué significa la palabra “súbditos” que se encuentra en el cuento?

**Respuesta:** Personas que sufren algún daño.

**Respuesta:** Personas que están bajo la autoridad de un rey o reina.

---

13.¿Qué significa la expresión “ser un mar de lágrimas” que se encuentra en el cuento?

**Respuesta:** No llorar nunca.

**Respuesta:** Llorar mucho.

---

14.¿Qué significa la expresión “no caber ni un alfiler” que se encuentra en el cuento?

**Respuesta:** Que un espacio está medio vacío.

**Respuesta:** Qué un espacio está lleno.

---