
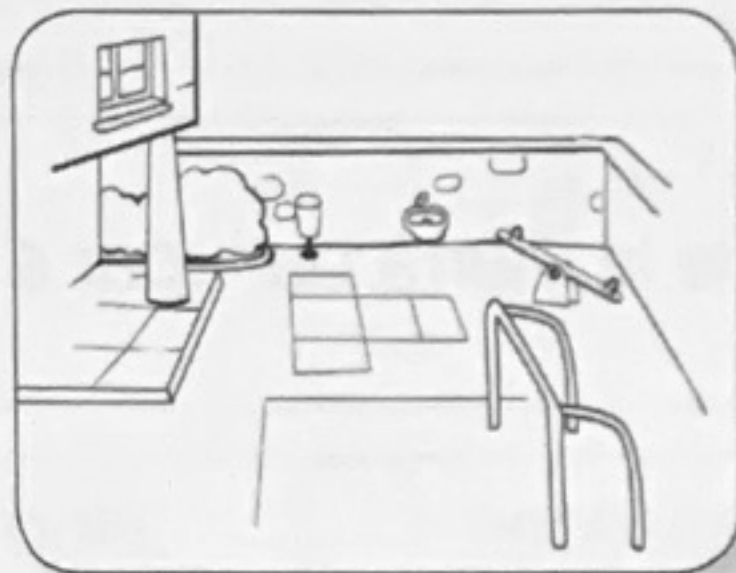





Nombre _____ Fecha _____

1 Escribe el nombre de estas dependencias del colegio.







2 Piensa y escribe el número que corresponda.



Jugar.

Cocinar.

Dormir.

Ducharnos.

3 Une.

El agua del mar

es dulce.

El agua de ríos y lagos

es salada.

- 4 Observa y escribe el nombre de los elementos de este paisaje donde corresponda.



Elementos naturales

Elementos contruidos

- 5 ¿De qué está cubierta la mayor parte de la Tierra? Completa.

La mayor parte de la Tierra está cubierta de _____. El resto es _____

- 6 Completa el nombre de estos continentes.

A_____ E_____ Á_____ O_____ A_____

- 7 Escribe donde corresponda.

Tierra
Sol
Luna