



Nombre _____ Fecha _____

1 ¿Qué sabes sobre la Tierra, la Luna y el Sol?

Escribe V (verdadero) o F (falso).

- El Sol no tiene luz propia.
- La Tierra tiene forma de esfera.
- La Luna tiene cuatro fases.



2 Lee y escribe el nombre de la estación del año que corresponda.

Llueve y la temperatura es cálida.

La mayoría de las plantas florecen.

▶ _____

Hace mucho calor y apenas llueve.

Las plantas dan frutos.

▶ _____

Llueve y el tiempo es fresco.

Muchos árboles pierden sus hojas.

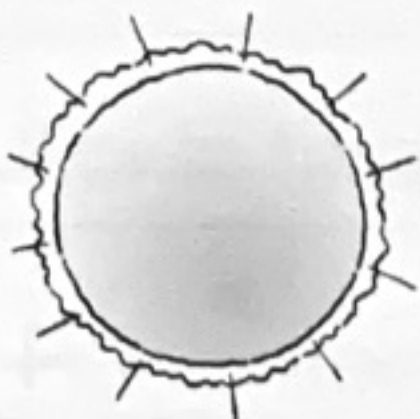
▶ _____

Hace frío y suele nevar.

Muchos árboles están sin hojas.

▶ _____

3 Une.



El Sol es •

• un planeta.

La Tierra es •



• una estrella.

4 ¿Qué momento del día es? Observa y une.


amanecer

mediodía

atardecer



5 Escribe los nombres de los planetas del sistema solar.



6 Relaciona.



día

mes

minuto

año

horas

semana