

Nombre \_\_\_\_\_ Fecha \_\_\_\_\_

### 1 Completa y escribe.

treinta y cinco ▶

setenta ▶

ochenta y seis ▶

noventa y siete ▶

31 ▶

56 ▶

77 ▶

91 ▶

### 2 Compara y colorea en cada caso la rana que corresponda.

El número mayor



El número menor



### 3 Lee y completa las series.

Números pares ▶  24  26       38

Números impares ▶  53  55       67

4 Calcula las operaciones.

$$\begin{array}{r} 71 \\ + 13 \\ \hline \square \end{array}$$

$$\begin{array}{r} 67 \\ + 20 \\ \hline \square \end{array}$$

$$\begin{array}{r} 46 \\ + 8 \\ \hline \square \end{array}$$

$$\begin{array}{r} 53 \\ + 39 \\ \hline \square \end{array}$$

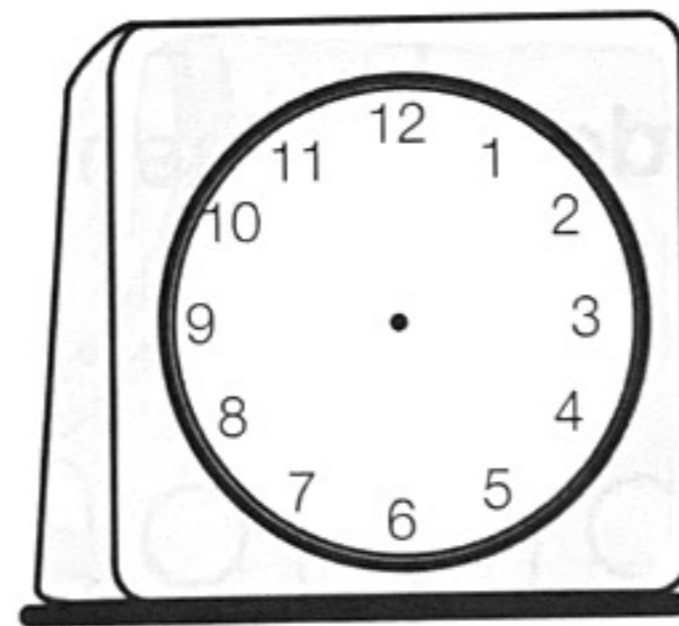
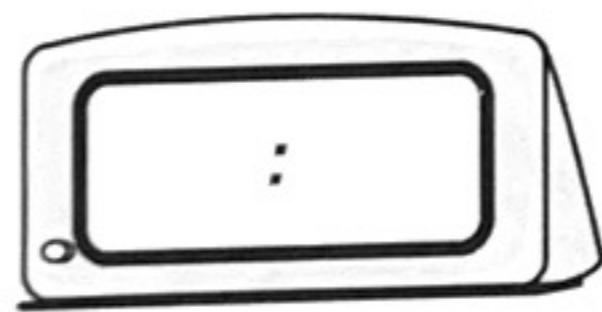

$$\begin{array}{r} 67 \\ - 21 \\ \hline \square \end{array}$$

$$\begin{array}{r} 78 \\ - 47 \\ \hline \square \end{array}$$

$$\begin{array}{r} 59 \\ - 46 \\ \hline \square \end{array}$$

$$\begin{array}{r} 69 \\ - 55 \\ \hline \square \end{array}$$

5 Completa los relojes y escribe qué hora es.

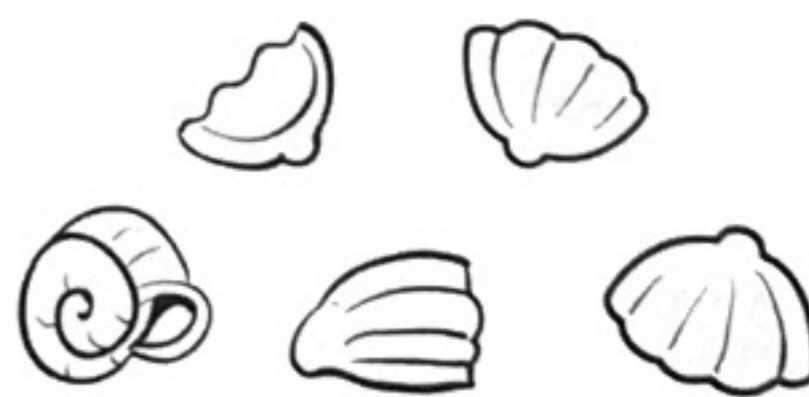





6 Resuelve.

Juan ha recogido 32 conchas; Berta, 21; y Luisa, 16.

¿Cuántas conchas han recogido entre los tres?



Operación



Solución