

Nombre _____ Fecha _____

1 ¿Qué hora es? Escribe.

Las 3 y media.

Las 12 en punto.

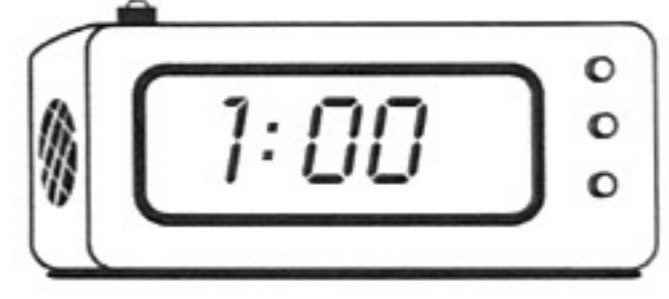


Las 11 y media.

La 1 en punto.

Las 9 y media.



Las 6 en punto.





2 Completa los relojes para que marquen la hora correcta.

Las 4 en punto.



Las 10 y media.



3 Calcula estas sumas llevando.

	D	U	
	○		
	42		
	39		
+	7		

	D	U	
	○		
	22		
	5		
+	19		

	D	U	
	○		
	24		
	37		
+	12		

	D	U	
	○		
	43		
	17		
+	28		

4 Observa el dibujo, completa el enunciado y resuelve.

Pepa y Pepe han estado recogiendo conchas en la playa. Pepa ha recogido conchas y Pepe, .

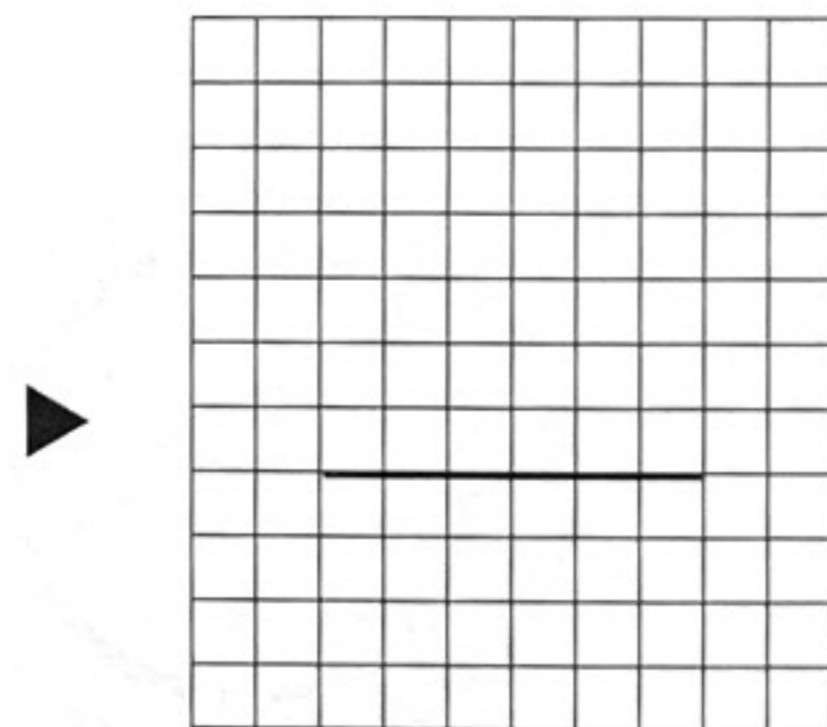
¿Cuántas conchas

?

Datos

▶ y

Operación



Solución

▶ *Han recogido*

