




Nombre \_\_\_\_\_ Fecha \_\_\_\_\_

**1** Tacha en cada caso la moneda que vale menos.



**2** Rodea.

1 euro y 68 céntimos



2 euros y 17 céntimos



**3** ¿Cuánto dinero hay? Calcula y marca.



- 7 € y 7 céntimos
- 70 € y 70 céntimos
- 7 € y 70 céntimos




4 ¿Cuántos bolígrafos hay? Observa y completa.



$$\square + \square + \square = \square$$

$$\square \times \square = \square$$

5 ¿Cuántos círculos hay que dibujar en cada hoja para repartirlos en partes iguales? Dibuja y completa.



En cada hoja hay que dibujar  $\square$  círculos.

6 Observa la lista, completa el problema y resuelve.

Laura tenía 25 euros.

Se ha comprado una camiseta que le ha costado  $\square$  euros.

**LISTA DE PRECIOS**

Camisetas	12 euros
Cinturones	14 euros
Bolsos	35 euros
Sandalias	31 euros



Datos  $\rightarrow$   $\square$  y  $\square$

Operación  $\rightarrow$

Solución  $\rightarrow$  Le quedan

