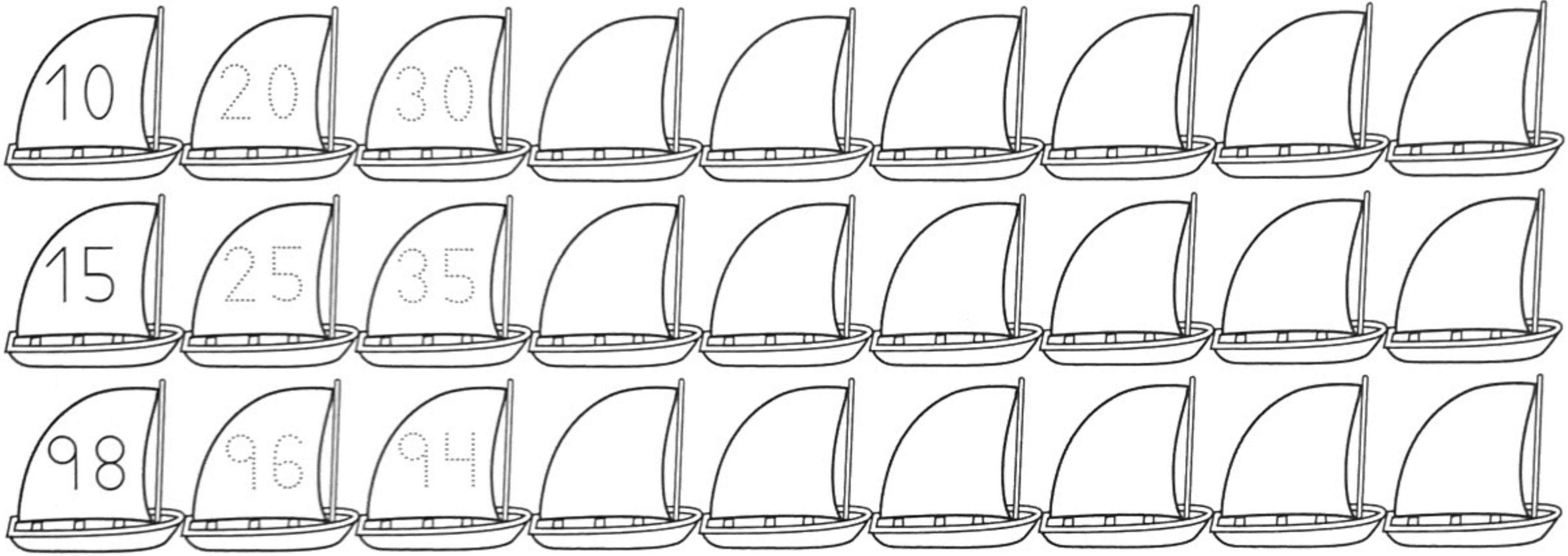


Nombre _____ Fecha _____

1 Completa las series.



2 ¿Es mayor o menor? Compara y completa.


46 es que 64.

64 es que 46.



28 es que 80.

80 es que 28.



3 ¿Cuántos vasos hay? Observa y completa.



$$\square + \square + \square = \square$$

$$\square \times \square = \square$$

4 Escribe cómo se leen estos ordinales.

1.º

3.º

4.º

7.º

9.º

10.º

5 Calcula las operaciones.

D	U
64	
+ 13	
<input style="width: 40px; height: 30px; border: none;" type="text"/>	


D	U
53	
+ 18	
<input style="width: 40px; height: 30px; border: none;" type="text"/>	

D	U
79	
- 54	
<input style="width: 40px; height: 30px; border: none;" type="text"/>	


D	U
31	
+ 24	
+ 6	
<input style="width: 40px; height: 30px; border: none;" type="text"/>	

6 Lee y resuelve.

En una tienda se han vendido 35 bocadillos de jamón y 12 bocadillos de tortilla menos que de jamón. ¿Cuántos bocadillos de tortilla se han vendido?



Operación



Solución