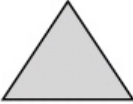




1. Completa con las palabras del recuadro.


trapecios
hexágonos
paralelogramos
octógonos
trapezoides


- Los polígonos que tienen 8 lados se llaman _____.
- Los polígonos que tienen 6 vértices se llaman _____.
- Los cuadriláteros se clasifican en: _____, _____ y _____.

2. Clasifica los siguientes triángulos.

			
Según sus lados			
Según sus ángulos			

3. Escribe debajo de cada paralelogramo su nombre. Después escribe estos nombres en la tabla.






	Tiene los 4 lados iguales	Tiene los lados iguales 2 a 2
Tiene los 4 ángulos rectos		
Tiene los ángulos iguales 2 a 2		

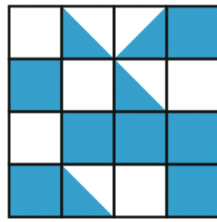
4. Calcula y contesta.

- ¿Cuál es el perímetro de un cuadrado de 5 cm de lado? _____
- El perímetro de un triángulo equilátero es 27 cm. ¿Cuánto miden sus lados? _____


5. ¿Cuál es el área coloreada de cada figura?
Cuenta y completa.




_____ 



_____ 



_____ 



_____ 

6. Resuelve.

Marta tiene 3 láminas cuadradas de 15 cm de lado y les quiere poner un marco.

- ¿Cuántos centímetros de listón necesita?
- ¿Cuántos centímetros de listón le sobran si ha comprado 2 m?