

CUADERNILLO

APRENDE LOS NÚMEROS

DEL 0 AL 999

[HTTPS://WWW.FACEBOOK.COM/BOSQUEDEFANTASIAS](https://www.facebook.com/bosquedefantasias)



Pon el número anterior y el posterior.

	Cuarenta y dos			11	
	Veintinueve			38	
	Trece			25	

Cuenta hacia atrás del 20 al 0 de dos en dos.

20	18									0
----	----	--	--	--	--	--	--	--	--	---

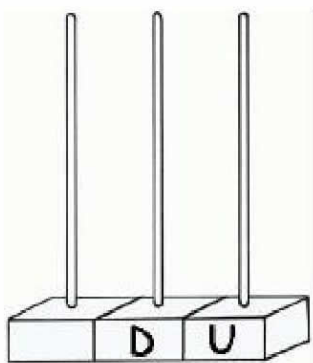
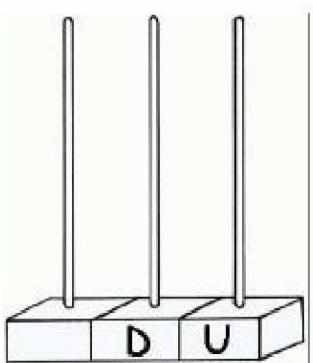
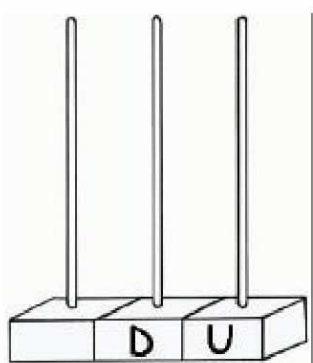
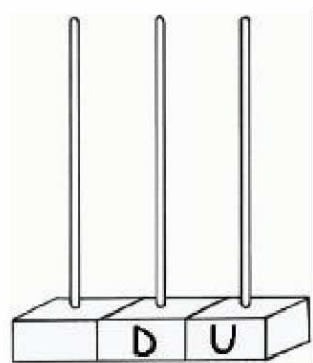
Rodea en rojo los números pares y en azul los impares.

1 – 2 – 3 – 4 – 5 – 6 – 7 – 8 – 9 – 10 – 11
 12 – 13 – 14 – 15 – 16 – 17 – 18 – 19 – 20

Rodea en rojo los números que tiene 2 decenas y en azul los que tienen dos unidades.

23 – 32 – 22 – 42 – 52 – 24 – 32 – 12 – 2

Dibuja.

			
45	23	32	10

REPASA LOS NÚMEROS DEL 0 AL 50

Escribe los números del 20 al 40 de dos en dos.

20	22									
----	----	--	--	--	--	--	--	--	--	--

Escribe los números del 0 al 50 de cinco en cinco.

0	5									
---	---	--	--	--	--	--	--	--	--	--

Escribe el nombre de estos números.

37

--	--	--	--	--	--	--	--	--	--	--

14

--	--	--	--	--	--	--	--	--	--	--

26

--	--	--	--	--	--	--	--	--	--	--

45

--	--	--	--	--	--	--	--	--	--	--

50

--	--	--	--	--	--	--	--	--	--	--

Ordena de menor a mayor.

8 - 33 - 42 - 19

--	--	--	--

35 - 26 - 7 - 39

--	--	--	--

Rodea el número mayor en cada cuadro.

13 - 3 - 25

1 - 36 - 42

18 - 42 - 5

Pon el número anterior y el posterior.

<input type="text"/>	Veinticuatro	<input type="text"/>	<input type="text"/>	<input type="text"/>	19	<input type="text"/>
<input type="text"/>	Treinta	<input type="text"/>	<input type="text"/>	<input type="text"/>	48	<input type="text"/>
<input type="text"/>	Cuarenta y uno	<input type="text"/>	<input type="text"/>	<input type="text"/>	36	<input type="text"/>

Cuenta hacia atrás del 40 al 20 de dos en dos.

40	38	<input type="text"/>	<input type="text"/>	<input type="text"/>	<input type="text"/>	<input type="text"/>	<input type="text"/>	<input type="text"/>	<input type="text"/>	20
----	----	----------------------	----------------------	----------------------	----------------------	----------------------	----------------------	----------------------	----------------------	----

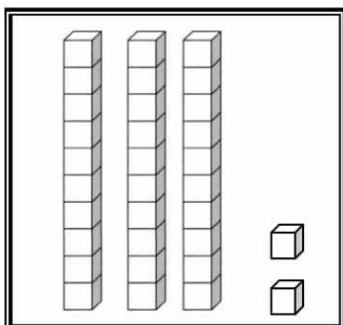
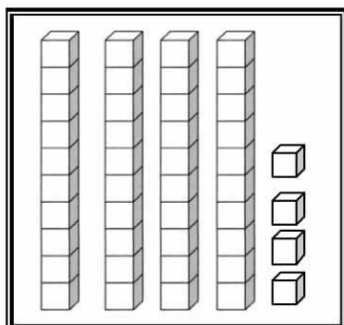
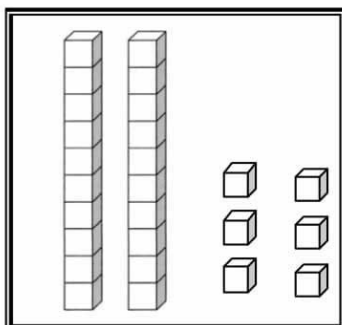
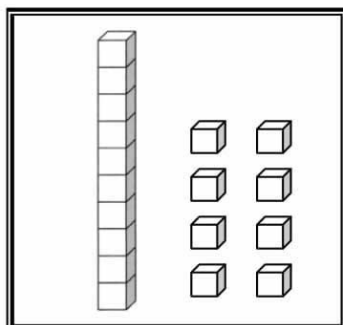
Rodea en rojo los números pares y en azul los impares.

21 – 22 – 23 – 24 – 25 – 26 – 27 – 28 – 29
 30 – 31 – 32 – 33 – 34 – 35 – 36 – 37 – 38

Rodea en rojo los números que tiene cinco decenas y en azul los que tienen seis unidades.

25 – 52 – 26 – 62 – 16 – 54 – 32 – 6 – 5

Qué número es?

			
------------------------------------------------------------------------------------	-------------------------------------------------------------------------------------	--------------------------------------------------------------------------------------	---------------------------------------------------------------------------------------

Pon el número anterior y el posterior.

<input type="text"/>	Cincuenta y cinco	<input type="text"/>		<input type="text"/>	99	<input type="text"/>
<input type="text"/>	Sesenta	<input type="text"/>		<input type="text"/>	81	<input type="text"/>
<input type="text"/>	Setenta y dos	<input type="text"/>		<input type="text"/>	58	<input type="text"/>

Cuenta hacia atrás del 90 al 80.

<input type="text"/>	<input type="text"/>	<input type="text"/>	<input type="text"/>	<input type="text"/>	<input type="text"/>	<input type="text"/>	<input type="text"/>	<input type="text"/>	<input type="text"/>	<input type="text"/>
----------------------	----------------------	----------------------	----------------------	----------------------	----------------------	----------------------	----------------------	----------------------	----------------------	----------------------

Cuenta hacia atrás del 70 al 60.

<input type="text"/>	<input type="text"/>	<input type="text"/>	<input type="text"/>	<input type="text"/>	<input type="text"/>	<input type="text"/>	<input type="text"/>	<input type="text"/>	<input type="text"/>	<input type="text"/>
----------------------	----------------------	----------------------	----------------------	----------------------	----------------------	----------------------	----------------------	----------------------	----------------------	----------------------

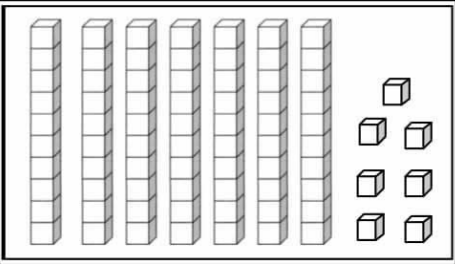
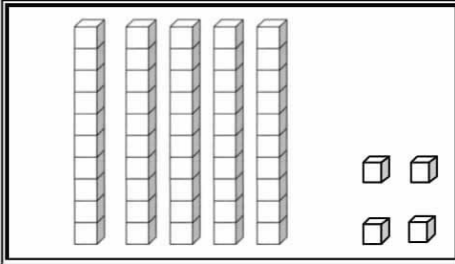
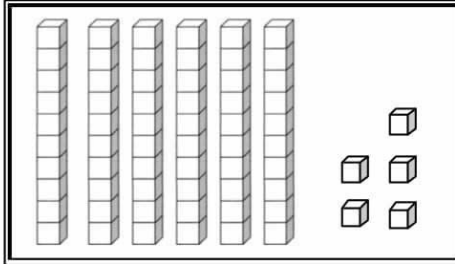
Tacha los números pares.

55	67	82	83	66	98	56	87	50	71	52
74	68	96	53	69	75	84	90	72	87	97

Rodea los números que tienen 5 decenas.

25 – 52 – 32 – 45 – 56 – 54 – 33 – 51 – 5

¿Qué número es?

		
<input type="text"/>	<input type="text"/>	<input type="text"/>

Pon el número anterior y el posterior.

	Setenta y dos			79	
	Cincuenta y ocho			85	
	Noventa y uno			58	

Cuenta hacia atrás del 60 al 50.

--	--	--	--	--	--	--	--	--	--	--

Cuenta hacia atrás del 100 al 80 de dos en dos.

100										80
-----	--	--	--	--	--	--	--	--	--	----

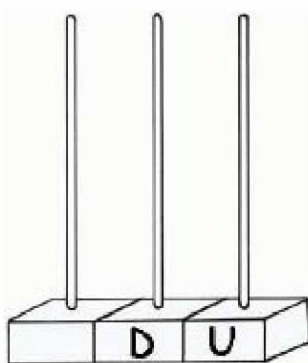
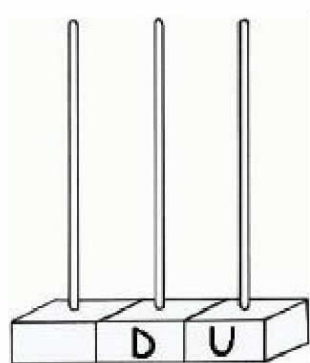
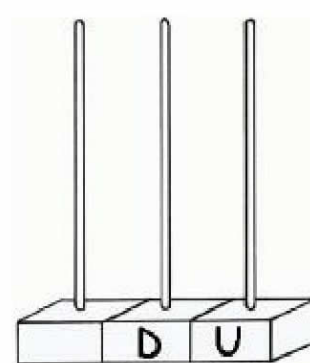
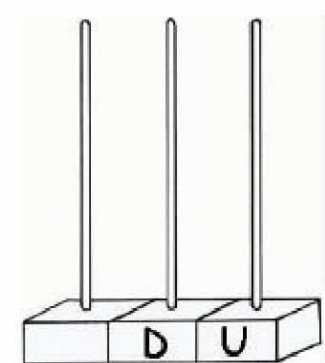
Tacha los números impares.

51	62	83	84	65	96	57	88	50	61	52
----	----	----	----	----	----	----	----	----	----	----

Rodea los números que tienen 7 unidades.

27 - 72 - 32 - 47 - 56 - 57 - 70 - 71 - 7

Dibuja.

			
75	61	54	97

Pon el número anterior y el posterior.

<input type="text"/>	Veintisiete	<input type="text"/>	<input type="text"/>	80	<input type="text"/>
<input type="text"/>	Sesenta y uno	<input type="text"/>	<input type="text"/>	7	<input type="text"/>
<input type="text"/>	Treinta y nueve	<input type="text"/>	<input type="text"/>	92	<input type="text"/>

Cuenta hacia atrás del 100 al 0 de diez en diez.

100	90	<input type="text"/>	<input type="text"/>	<input type="text"/>	<input type="text"/>	<input type="text"/>	<input type="text"/>	<input type="text"/>	<input type="text"/>	<input type="text"/>
-----	----	----------------------	----------------------	----------------------	----------------------	----------------------	----------------------	----------------------	----------------------	----------------------

Cuenta hacia atrás del 60 al 50.

<input type="text"/>	<input type="text"/>	<input type="text"/>	<input type="text"/>	<input type="text"/>	<input type="text"/>	<input type="text"/>	<input type="text"/>	<input type="text"/>	<input type="text"/>	<input type="text"/>
----------------------	----------------------	----------------------	----------------------	----------------------	----------------------	----------------------	----------------------	----------------------	----------------------	----------------------

Tacha los números pares.

5	7	2	3	6	8	1	9	4	10	11
---	---	---	---	---	---	---	---	---	----	----

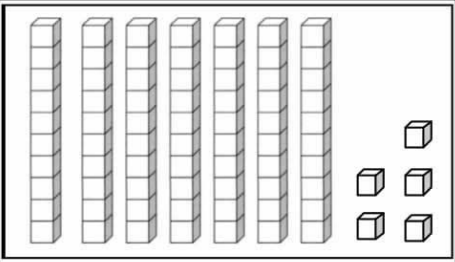
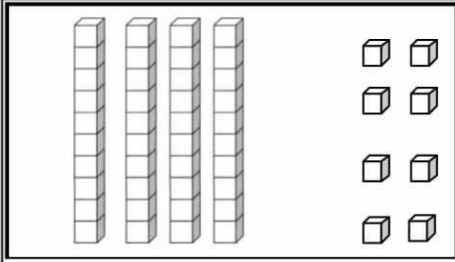
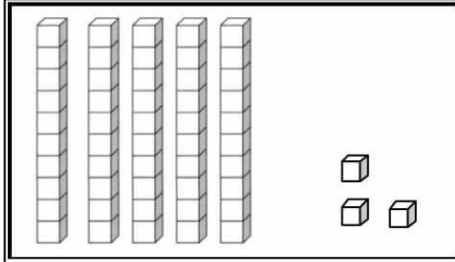
Rodea los números que tienen 2 decenas.

23 - 52 - 32 - 25 - 16 - 24 - 33 - 21 - 2

Escribe el nombre de los siguientes números ordinales.

2º _____ 4º _____ 6º _____

¿Qué número es?

		
<input type="text"/>	<input type="text"/>	<input type="text"/>

Pon el número anterior y el posterior.

<input type="text"/>	Quince	<input type="text"/>	<input type="text"/>	59	<input type="text"/>
<input type="text"/>	Cuarenta	<input type="text"/>	<input type="text"/>	72	<input type="text"/>
<input type="text"/>	Noventa y siete	<input type="text"/>	<input type="text"/>	31	<input type="text"/>

Cuenta hacia atrás del 90 al 80.

90	<input type="text"/>	<input type="text"/>	<input type="text"/>	<input type="text"/>	<input type="text"/>	<input type="text"/>	<input type="text"/>	<input type="text"/>	<input type="text"/>	<input type="text"/>
----	----------------------	----------------------	----------------------	----------------------	----------------------	----------------------	----------------------	----------------------	----------------------	----------------------

Cuenta hacia atrás del 20 al 0 de dos en dos.

20	<input type="text"/>	<input type="text"/>	<input type="text"/>	<input type="text"/>	<input type="text"/>	<input type="text"/>	<input type="text"/>	<input type="text"/>	<input type="text"/>	0
----	----------------------	----------------------	----------------------	----------------------	----------------------	----------------------	----------------------	----------------------	----------------------	---

Tacha los números impares.

21	13	16	17	15	12	19	18	14	20	22
----	----	----	----	----	----	----	----	----	----	----

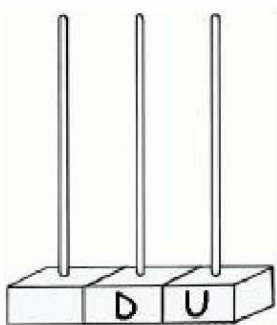
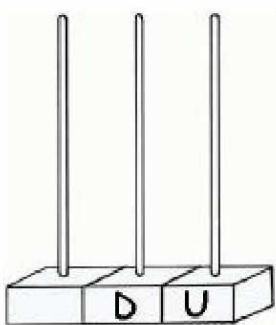
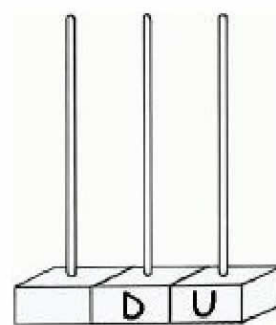
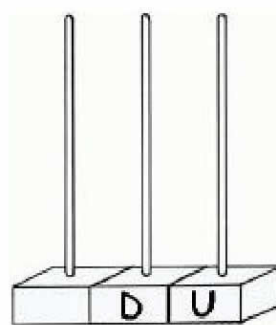
Rodea los números que tienen 6 unidades.

26 - 62 - 36 - 47 - 56 - 12 - 6 - 76 - 40

Escribe el nombre de los siguientes números ordinales.

3° _____ 9° _____ 5° _____

Dibuja.

			
86	31	92	14

Pon el número anterior y el posterior.

<input type="text"/>	Cuarenta y cinco	<input type="text"/>	<input type="text"/>	58	<input type="text"/>
<input type="text"/>	Ochenta y uno	<input type="text"/>	<input type="text"/>	34	<input type="text"/>
<input type="text"/>	Veintisiete	<input type="text"/>	<input type="text"/>	60	<input type="text"/>

Cuenta hacia atrás del 30 al 20.

30	<input type="text"/>	<input type="text"/>	<input type="text"/>	<input type="text"/>	<input type="text"/>	<input type="text"/>	<input type="text"/>	<input type="text"/>	<input type="text"/>	<input type="text"/>
----	----------------------	----------------------	----------------------	----------------------	----------------------	----------------------	----------------------	----------------------	----------------------	----------------------

Cuenta hacia atrás del 50 al 0 de cinco en cinco.

50	<input type="text"/>	<input type="text"/>	<input type="text"/>	<input type="text"/>	<input type="text"/>	<input type="text"/>	<input type="text"/>	<input type="text"/>	<input type="text"/>	<input type="text"/>
----	----------------------	----------------------	----------------------	----------------------	----------------------	----------------------	----------------------	----------------------	----------------------	----------------------

Tacha los números pares.

15	17	12	13	16	18	11	19	14	10	20
----	----	----	----	----	----	----	----	----	----	----

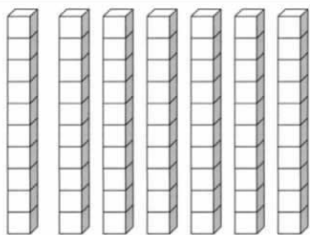
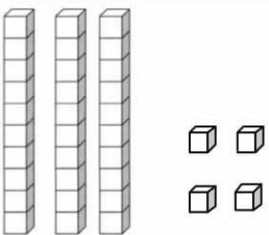
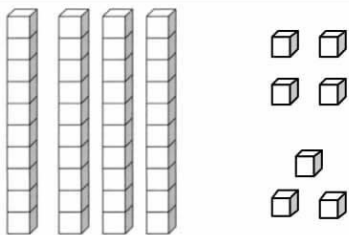
Rodea los números que tienen 2 decenas.

43 - 54 - 42 - 45 - 24 - 44 - 34 - 4 - 12

Escribe el nombre de los siguientes números ordinales.

1º _____ 8º _____ 7º _____

¿Qué número es?

		
<input type="text"/>	<input type="text"/>	<input type="text"/>

CONOCE LOS NÚMEROS DEL 100 AL 199

Realiza esta serie.

134	137								
167									197

Escribe el nombre de estos números.

145 _____

180 _____

117 _____

169 _____

Pon el número anterior y el posterior.

	159				171				108	
	120				146				100	

Ordena de menor a mayor.

132 – 147 – 126 – 183

--	--	--	--

Ordena de mayor a menor.

185 – 158 – 195 – 159

--	--	--	--

Completa según corresponda.

	Centenas	Decenas	Unidades
132			
107			
180			

	Centenas	Decenas	Unidades
124			
112			
163			

Completa.

C	D	U
148		

C	D	U
163		

C	D	U
104		

CONOCE LOS NÚMEROS DEL 200 AL 299

Realiza esta serie.

298	296									
-----	-----	--	--	--	--	--	--	--	--	--

276										256
-----	--	--	--	--	--	--	--	--	--	-----

Escribe el nombre de estos números.

221

206

279

499

Adivina el número:

El anterior a 237 = El posterior a 240 = El anterior a 296 =

El posterior a 229 = El anterior a 274 = El posterior a 288 =

Ordena de menor a mayor.

234 – 160 – 243 – 106

--	--	--	--

Ordena de mayor a menor.

133 – 243 – 146 – 38

--	--	--	--

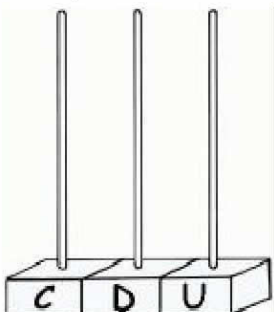
Rodea los números que tienen 2 decenas.

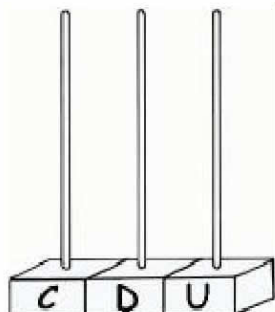
279 – 123 – 164 – 225 – 282 – 147 – 122 – 102

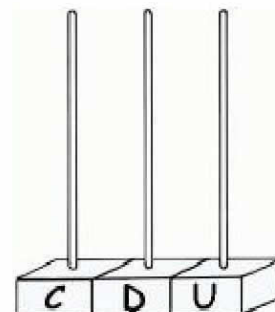
Tacha los números que tienen 6 unidades.

246 – 126 – 162 – 264 – 276 – 105 – 206 – 131

Completa.


235


127


240

CONOCE LOS NÚMEROS DEL 300 AL 399

Realiza esta serie.

320	323									

Escribe el nombre de estos números.

397 _____

320 _____

308 _____

373 _____

Pon el número anterior y el posterior.

	329				310				333	
	371				328				305	

Ordena de menor a mayor.

352 – 370 – 166 – 273

--	--	--	--

Ordena de mayor a menor.

285 – 376 – 363 – 199

--	--	--	--

Colorea la decena más próxima.

39	20	30	40
21	10	20	30

Colorea la centena más próxima.

320	100	200	300
270	100	200	300

Descompón estos números:

350 → + +

127 → + +

349 → + +

206 → + +

CONOCE LOS NÚMEROS DEL 400 AL 499

Realiza esta serie.

440	442									

Escribe el nombre de estos números.

456 _____

481 _____

401 _____

499 _____

Pon el número anterior y el posterior.

	430				471				489	
	469				445				497	

Ordena de menor a mayor.

142 – 450 – 238 – 449

--	--	--	--

Ordena de mayor a menor.

357 – 473 – 367 – 249

--	--	--	--

Escribe.

8° → <table border="1" style="width: 100%; height: 20px;"><tr><td> </td></tr></table>		7° → <table border="1" style="width: 100%; height: 20px;"><tr><td> </td></tr></table>	
4° → <table border="1" style="width: 100%; height: 20px;"><tr><td> </td></tr></table>		<table border="1" style="width: 40px; height: 20px;"></table> → sexto	
<table border="1" style="width: 40px; height: 20px;"></table> → quinto	<table border="1" style="width: 40px; height: 20px;"></table> → segundo		

Descompón estos números en U, D y C:

350 → _____	349 → _____
127 → _____	206 → _____

CONOCE LOS NÚMEROS DEL 500 AL 599

Realiza esta serie.

491	494									
-----	-----	--	--	--	--	--	--	--	--	--

Realiza esta serie.

555	550									
-----	-----	--	--	--	--	--	--	--	--	--

Escribe el nombre de estos números.

567

539

590

Pon el número anterior y el posterior.

	578				541				522	
	560				586				500	

Ordena de menor a mayor.

257 – 123 – 530 – 321

--	--	--	--

Ordena de mayor a menor.

578 – 587 – 567 – 507

--	--	--	--

Descompón estos números en forma de suma.

350 → _____

349 → _____

127 → _____

206 → _____

Escribe 5 números pares y 5 impares de tres cifras.

PARES					
IMPARES					

Rodea los números pares.

98 – 35 – 346 – 567 – 432 – 139 – 280 – 362 – 503 – 11